

PROCEDIMIENTO SELECTIVO PARA LA CONSTITUCIÓN DE UNA BOLSA DE TRABAJO POR CONCURSO DE MÉRITOS Y PRUEBA DE CAPACIDAD PARA CONTRATOS TEMPORALES ARTÍCULO 15 ESTATUTO DE LOS TRABAJADORES, ARTÍCULO 11 DEL TREBEP EN RÉGIMEN LABORAL Y ARTÍCULO 10 DEL TREBEP EN RÉGIMEN FUNCIONARIAL, PARA LA CATEGORÍA DE PEÓN EN EL AYUNTAMIENTO DE MEJORADA DEL CAMPO.

Oposición. Prueba de Capacidad.

Preguntas y respuestas

EJERCICIO DIA 3 (08-06-2022)

DOCUMENTO PARA EL TRIBUNAL

**Preguntas y Respuestas del ejercicio día 3 (08/06/2022),
REALIZADA AL ASPIRANTE: _____**

Los materiales se encuentran dispuestos sobre la mesa de examen. El/la aspirante ha rellenado y firmado la plica de identificación donde se le informa y detalla en qué consistirá la prueba práctica y su duración máxima (10 minutos).

PARTE 1: Identificación de útiles y materiales de trabajo. Se le ha indicado que a cada pregunta que se le realice debe identificar, señalar o coger la que considere como respuesta correcta.

En este documento queda señalado cuál es la respuesta correcta y con un círculo se señalará por parte del Tribunal la respuesta dada por el/la aspirante.

1) ¿En este cuadro cual es el PIA (pequeño interruptor automático)?




A

B

C Respuesta correcta

2) ¿Cuál de estos cables es la fase?



A

B Respuesta correcta

C

3) ¿Cuál es la broca que utilizarías para madera?



A Respuesta correcta.

B

C

4) ¿Como se llama?



Respuesta: Flexómetro o cinta métrica.

5) ¿Cuál de estas herramientas utilizarías en fontanería?



Todas.

6) ¿Qué herramienta de las siguientes expuestas se utiliza para igualar y quitar piedras en jardinería?



A

B Respuesta correcta.

C

7) ¿A cuál de estas herramientas se le llama “alicate de corte”?



A

B Respuesta correcta.

C

D

8) ¿Que herramienta utilizarías para realizar un cajeado en una puerta?




A

B Respuesta correcta.

C

9) ¿Cuál es el nivel de estos utensilios de albañilería?



A

B

C Respuesta correcta.

10) ¿Cuál es el paletín de los utensilios de albañilería?



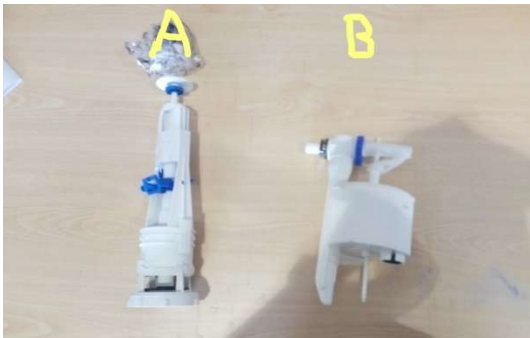
A

B

C

D Respuesta correcta.

11) De estas piezas de fontanería ¿Cuál es el mecanismo de descarga de cisterna?



A Respuesta correcta.

B

PREGUNTAS RESERVA.

R1) ¿Para qué sirve esta herramienta?



Respuesta: Es un desatascador.

R2) ¿Cómo se llama esta herramienta?



Respuesta: Cortatubos.

R3) ¿Cómo se llama?



Respuesta: Calibre pie de rey.

PARTE 2: Se le solicitará que realice una tarea de manipulación y mantenimiento de una herramienta eléctrica. Se valorará que aplique las medidas de prevención adecuadas, la correcta ejecución de la tarea en el orden correcto de pasos a seguir.

Cambiar un disco de radial, con las medidas de seguridad necesarias para ello. Se puntúa:

Desenchufar la maquina: 1 punto.

Guantes: 1punto.

Cambio de disco: 1 punto.

Si no desenchufara la máquina no se puede sumar ningún punto, aunque realice la prueba, POR NO HACERLO EN EL ORDEN CORRECTO.

PUNTUACIÓN OBTENIDA:

Respuestas correctas	Total puntos
Parte 1: _____ x 2 puntos	
Parte 2: _____ x 1 punto	
SUMA TOTAL FASE PRACTICA	